

ПРОТОКОЛ
ШКОЛЬНОГО ЭТАПА ОЛИМПИАДЫ УЧАЩИХСЯ

по Истории

В МКОУ «СП № 10» п. Светлогорск ПРОВОДИВШЕЙСЯ «27» сентября 2018 г.

№ п/п	Фамилия Имя Отчество	шифр	Ф.И.О. учителя (полностью)	Результат (Балл) максим.балл)	место
1.	Бован Валя	Б 2	Взницин Виталий Станиславович	22/40	6
2.	Дудик Катя	Д 1	Взницин Виталий Станиславович	24/40	5
3.	Шепак Тамара	Ш 1	Взницин Виталий Станиславович	32/40	4
4.	Александров Илья	А 1	Взницин Виталий Станиславович	39/40	2
5.	Демьянов Никита	Д 2	Взницин Виталий Станиславович	35/40	3
6.	Быкова Ксения	Б 1	Взницин Виталий Станиславович	40/40	1
7.					
8.					
9.					

Председатель предметно – методической комиссии: Туркевич Э.З.

Члены предметно – методической комиссии: Ранневич В.С.

Секретарь: Ивахно А.В.

(Handwritten signatures)

**Всероссийская олимпиада школьников
по истории (школьный этап) 2018/2019 учебный год
5 класс**

Время выполнения 40 минут. Максимальное количество баллов 40

1 Выбери один верный ответ.

№ задания	Задание	Количество баллов
1	Перечень поколений, происходящих от одного предка а) список б) архив в) перепись г) <u>родословная</u>	16
2	На гербе России изображен: а) единорог б) <u>двуглавый орел</u> в) лев в царской короне г) медведь с секирой	16
3	Назовите основное занятие археологов? а) чтение книг б) беседа с людьми в) <u>раскопки</u> г) путешествие по стране	16
4	Эта наука отвечает на вопросы: какие народы живут на Земле? каково их происхождение и расселение? На каких языках они говорят?... а) география б) <u>этнография</u> в) геология г) археология	16
5	Какими цифрами принято обозначать века в исторической науке? а) арабскими б) <u>римскими</u> в) греческими г) английскими	16
6	Что позволило первобытному человеку пережить ледниковый период? а) собирательство б) изобретение металлических орудий труда в) <u>овладение огнем.</u>	16
7	Что в переводе с греческого буквально означает «родословная»? а) нумерология б) <u>генеалогия</u> в) хронология г) ономастика	16
8	Орудие труда, при помощи которого первобытные люди ловили рыбу. а) <u>гарпун</u> б) лук в) рубило.	16
9	Выберите причину появления религии: а) неумение человеком объяснять явления природы б) <u>боязнь человека перед стихией природы</u> в) желание человека отличаться от животных.	16
10	Что позволило первобытному человеку пережить ледниковый период? а) собирательство б) изобретение металлических орудий труда в) <u>овладение огнем.</u>	16

2 Решите задачи. (За каждый правильный ответ 5 баллов, всего 15)

1 В 1900 г. археологами был раскопан могильник вождя, где найдены остатки бус из драгоценных камней, золотые и серебряные сосуды. Установлено, что захоронение было сделано 7240 лет назад. В каком году был захоронен вождь? - 5340 год +

2 Рим был основан в 753 г. до н. э. Сколько лет прошло от основания Рима до 1147 г., т. е. до первого упоминания Москвы в летописях? - 1900 лет +

3 В гроте Тешик-Таш во время археологических раскопок было найдено 339 каменных орудий и свыше 10 000 обломков костей животных. Из общего количества костей удалось установить принадлежность 938. Из них лошади – 2, медведя – 2, горного козла – 767, леопарда – 1.
Определите главное занятие обитателей грота Тешик-Таш. - охота +

4 Приведите в соответствие, заполните расположенную ниже таблицу


(1 соответствие 1 балл, всего 5б)

- | | |
|------------|---|
| 1) ремесло | а) объединение родов |
| 2) миф | б) действия и слова, якобы обладающие чудодейственными свойствами |
| 3) род | в) изготовление вручную различных изделий |
| 4) магия | г) сказания о богах, героях, о происхождении явлений природы |
| 5) племя | д) группа людей, ведущих свое происхождение от одного предка |

1	2	3	4	5
в	з	г	б	а

5 Решите кроссворд «Первобытное общество» и укажите ключевое слово (1 слово 1 балл=10б)

По горизонтали:



1. Материк, где по предположениям ученых, жили древнейшие люди.

2. Оружие охотников, которым можно поразить цель на большом расстоянии.

3. Первая сила природы, которой овладели первобытные люди.

4. Занятие первобытных людей, позволявшее добыть мясную пищу.

5. Сверхъестественное существо, в которое верили первобытные люди; обитает в каждом человеке.

6. Самое крупное из животных, на которое охотились древние люди.

7. Рогатый зверь, которого часто изображали первобытные художники.

8. Орудие, которым ловили рыбу.

9. Занятие, позволявшее добыть в основном растительную пищу.

Ключевое слово-

Шля. в.

Быкова Ж

**Всероссийская олимпиада школьников
по истории (школьный этап) 2018/2019 учебный год
5 класс**

Время выполнения 40 минут. Максимальное количество баллов 40

1 Выбери один верный ответ.

№ задания	Задание	Количество баллов
1	Перечень поколений, происходящих от одного предка а) список б) архив в) перепись <input checked="" type="radio"/> г) родословная	16
2	На гербе России изображен: а) единорог <input checked="" type="radio"/> б) двуглавый орел в) лев в царской короне г) медведь с секирой	16
3	Назовите основное занятие археологов? а) чтение книг б) беседа с людьми <input checked="" type="radio"/> в) раскопки г) путешествие по стране	16
4	Эта наука отвечает на вопросы: какие народы живут на Земле? каково их происхождение и расселение? На каких языках они говорят?... а) география <input checked="" type="radio"/> б) этнография в) геология г) археология	16
5	Какими цифрами принято обозначать века в исторической науке? а) арабскими <input checked="" type="radio"/> б) римскими в) греческими г) английскими	16
6	Что позволило первобытному человеку пережить ледниковый период? а) собирательство б) изобретение металлических орудий труда <input checked="" type="radio"/> в) овладение огнем.	16
7	Что в переводе с греческого буквально означает «родословная»? а) нумерология <input checked="" type="radio"/> б) генеалогия в) хронология г) ономастика	16
8	Орудие труда, при помощи которого первобытные люди ловили рыбу. <input checked="" type="radio"/> а) гарпун б) лук в) рубило.	16
9	Выберите причину появления религии: <input checked="" type="radio"/> а) неумение человеком объяснять явления природы б) боязнь человека перед стихией природы в) желание человека отличаться от животных.	16
10	Что позволило первобытному человеку пережить ледниковый период? а) собирательство б) изобретение металлических орудий труда <input checked="" type="radio"/> в) овладение огнем.	16

2 Решите задачи. (За каждый правильный ответ 5 баллов, всего 15)

1 В 1900 г. археологами был раскопан могильник вождя, где найдены остатки бус из драгоценных камней, золотые и серебряные сосуды. Установлено, что захоронение было сделано 7240 лет назад. В каком году был захоронен вождь? *от 1900 - 5340 +*

2 Рим был основан в 753 г. до н. э. Сколько лет прошло от основания Рима до 1147 г., т. е. до первого упоминания Москвы в летописях? *1900 +*

3 В гроте Тешик-Таш во время археологических раскопок было найдено 339 каменных орудий и свыше 10 000 обломков костей животных. Из общего количества костей удалось установить принадлежность 938. Из них лошади – 2, медведя – 2, горного козла – 767, леопарда – 1.
Определите главное занятие обитателей грота Тешик-Таш. *Охота +*

4 Приведите в соответствие, заполните расположенную ниже таблицу

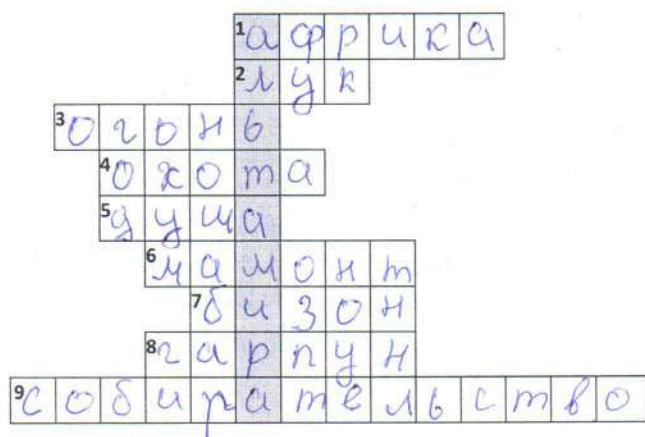
(1 соответствие 1 балл, всего 5б)

- | | |
|------------|---|
| 1) ремесло | а) объединение родов |
| 2) миф | б) действия и слова, якобы обладающие чудодейственными свойствами |
| 3) род | в) изготовление вручную различных изделий |
| 4) магия | г) сказания о богах, героях, о происхождении явлений природы |
| 5) племя | д) группа людей, ведущих свое происхождение от одного предка |

1	2	3	4	5
в	г	д	б	а

5 Решите кроссворд «Первобытное общество» и укажите ключевое слово (1 слово 1 бал=10б)

По горизонтали:



1. Материк, где по предположениям ученых, жили древнейшие люди.
2. Оружие охотников, которым можно поразить цель на большом расстоянии.
3. Первая сила природы, которой овладели первобытные люди.
4. Занятие первобытных людей, позволявшее добыть мясную пищу.
5. Сверхъестественное существо, в которое верили первобытные люди; обитает в каждом человеке.

6. Самое крупное из животных, на которое охотились древние люди.
7. Рогатый зверь, которого часто изображали первобытные художники.
8. Орудие, которым ловили рыбу.
9. Занятие, позволявшее добыть в основном растительную пищу.

Ключевое слово-

**Всероссийская олимпиада школьников
по истории (школьный этап) 2018/2019 учебный год
5 класс**

Время выполнения 40 минут. Максимальное количество баллов 40

1 Выбери один верный ответ.

№ задания	Задание	Количество баллов
1	Перечень поколений, происходящих от одного предка а) список б) архив в) перепись г) родословная	16
2	На гербе России изображен: а) единорог б) двуглавый орел в) лев в царской короне г) медведь с секирой	16
3	Назовите основное занятие археологов? а) чтение книг б) беседа с людьми в) раскопки г) путешествие по стране	16
4	Эта наука отвечает на вопросы: какие народы живут на Земле? каково их происхождение и расселение? На каких языках они говорят?... а) география б) этнография в) геология г) археология	16
5	Какими цифрами принято обозначать века в исторической науке? а) арабскими б) римскими в) греческими г) английскими	16
6	Что позволило первобытному человеку пережить ледниковый период? а) собирательство б) изобретение металлических орудий труда в) овладение огнем.	16
7	Что в переводе с греческого буквально означает «родословная»? а) нумерология б) генеалогия в) хронология г) ономастика	16
8	Орудие труда, при помощи которого первобытные люди ловили рыбу. а) гарпун б) лук в) рубило.	16
9	Выберите причину появления религии: а) неумение человеком объяснять явления природы б) боязнь человека перед стихией природы в) желание человека отличаться от животных.	16
10	Что позволило первобытному человеку пережить ледниковый период? а) собирательство б) изобретение металлических орудий труда в) овладение огнем.	16

2 Решите задачи. (За каждый правильный ответ 5 баллов, всего 15)

1 В 1900 г. археологами был раскопан могильник вождя, где найдены остатки бус из драгоценных камней, золотые и серебряные сосуды. Установлено, что захоронение было сделано 7240 лет назад. В каком году был захоронен вождь? *5340 н.э. н.э.* +

10

2 Рим был основан в 753 г. до н. э. Сколько лет прошло от основания Рима до 1147 г., т. е. до первого упоминания Москвы в летописях? *1394 года* -

3 В гроте Тешик-Таш во время археологических раскопок было найдено 339 каменных орудий и свыше 10 000 обломков костей животных. Из общего количества костей удалось установить принадлежность 938. Из них лошади – 2, медведя – 2, горного козла – 767, леопарда – 1. Определите главное занятие обитателей грота Тешик-Таш. *Охота* +

4 Приведите в соответствие, заполните расположенную ниже таблицу

(1 соответствие 1 балл, всего 5б)

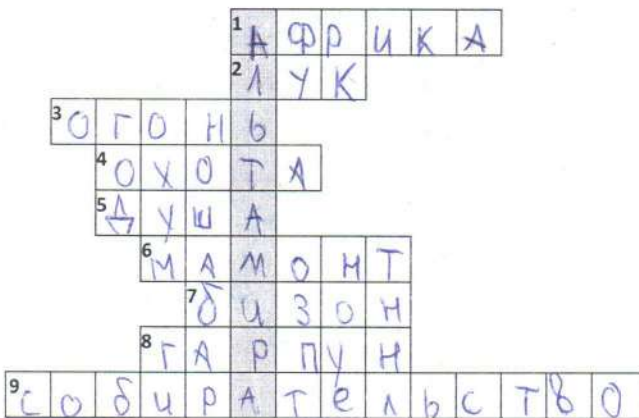
- | | |
|------------|---|
| 1) ремесло | а) объединение родов |
| 2) миф | б) действия и слова, якобы обладающие чудодейственными свойствами |
| 3) род | в) изготовление вручную различных изделий |
| 4) магия | г) сказания о богах, героях, о происхождении явлений природы |
| 5) племя | д) группа людей, ведущих свое происхождение от одного предка |

5

1	2	3	4	5
<i>б</i>	<i>з</i>	<i>д</i>	<i>б</i>	<i>а</i>

5 Решите кроссворд «Первобытное общество» и укажите ключевое слово (1 слово 1 балл=10б)

По горизонтали:



10

- 1. Материк, где по предположениям ученых, жили древнейшие люди.
- 2. Оружие охотников, которым можно поразить цель на большом расстоянии.
- 3. Первая сила природы, которой овладели первобытные люди.
- 4. Занятие первобытных людей, позволявшее добыть мясную пищу.
- 5. Сверхъестественное существо, в которое верили первобытные люди; обитает в каждом человеке.

- 6. Самое крупное из животных, на которое охотились древние люди.
- 7. Рогатый зверь, которого часто изображали первобытные художники.
- 8. Оружие, которым ловили рыбу.
- 9. Занятие, позволявшее добыть в основном растительную пищу.

Ключевое слово - *двустворчатый моллюск*

ПРОТОКОЛ
ШКОЛЬНОГО ЭТАПА ОЛИМПИАДЫ УЧАЩИХСЯ

по Истории

В МКОУ «СШ № 10» п. Светлогорск ПРОВОДИВШЕЙСЯ «29» сентября 2018 г.

№ п/п	Фамилия Имя Отчество	шифр	Ф.И.О. учителя (полностью)	Результат (Балл\ максим.балл)	место
1.	<u>Ряпер Егор</u>	<u>P-1</u>	<u>Виталий Витальевич Станиславович</u>	<u>44/55</u>	<u>1</u>
2.					
3.					
4.					
5.					
6.					
7.					
8.					
9.					
10.					
11.					
12.					
13.					
14.					
15.					
16.					
17.					
18.					
19.					
20.					
21.					
22.					
23.					

Председатель предметно – методической комиссии: Туркевич Э.З.

Члены предметно – методической комиссии: Возмулин В.С. Воз

Секретарь: Ивахно А.В.

Титер

**Всероссийская олимпиада школьников
по истории (школьный этап) 2018/2019 учебный год
6 класс**

Внимательно прочитайте задания. Правильные ответы обведите в кружочек. Если испытываете затруднения, переходите к следующему вопросу. На выполнение всей работы отводится **45 минут**. Максимальное количество -55 баллов.

1. Выберите правильный ответ: (по 1 баллу за каждый правильный ответ)

1. Главное отличие первобытного человека от обезьяны:

- 3 +
- 1) умение изготавливать орудия труда и оружие
 - 2) длинные руки, свисающие до колен
 - 3) собиание даров природы
 - 4) общение друг с другом с помощью звуков

2. Человек современного вида появился около:

-
- 1) 60 тысяч лет назад
 - 2) 40 тысяч лет назад
 - 3) 20 тысяч лет назад
 - 4) 10 тысяч лет назад

3. Первое животное, одомашненное человеком:

- + -
- 1) кошка
 - 2) собака
 - 3) лошадь
 - 4) корова

4. Первые земледельцы появились в:

- + +
- 1) Южной Европе
 - 2) Юго-Восточной Азии
 - 3) Передней Азии
 - 4) Южной Африке

5. На смену родовой общине приходит:

-
- 1) племя
 - 2) соседская община
 - 3) государство
 - 4) города

(5 баллов)

2. Установите последовательность эпизодов морского пути, который после падения Трои преодолели Одиссей и его спутники. Ответ запишите в таблицу в виде последовательности цифр. (за каждую правильную последовательность из 3-х цифр-2 балла, из 4-х цифр-3 балла, из 5-ти цифр-4 балла, из 6 цифр-5 баллов. Максимальное количество -5 баллов).

5 +

1) Одиссей попадает на остров циклопов
2) отплытие корабля Одиссея из-под поверженной Трои
3) Одиссей во дворце у царя феаков Алкиноя
4) кораблекрушение и гибель спутников Одиссея
5) соревнование Одиссея и женихов Пенелопы в стрельбе из лука
6) встреча Одиссея с поющими сиренами.

2	6	1	4	3	5
---	---	---	---	---	---

3. Вставьте в предложения пропущенные слова:

- + 5
- 1) Прошлое человечества изучает специальная наука исаэрия.
 - 2) Все, что когда-то было создано людьми и сохранилось до наших дней, называют артефактами.
 - 3) Промежуток времени ровно в сто лет люди называют век.
 - 4) Время до рождения Иисуса Христа называют « до н.э. », а время после рождения Иисуса Христа называют « н.э. ».
 - 5) Травянистое растение, из которого в древности делали материал для письма папирус.

(6 баллов - по 1б. за вставленное слово)

4. Замените фразы крылатыми выражениями, связанными с историей Древней Греции.

- 1) Причина ссоры яблоко раздора.
- 2) Долгие, полные приключений странствия Одиссея.
- 3) Подарок, сделанный с коварным умыслом Троянский конь.
- 4) Жестокие законы _____.

8 5. Способ выхода из затруднительного положения Аллекава мита
(10 баллов - по 2б. за правильный ответ)

+ 5. О каком древнем городе идет речь?

Греческий философ Страбон пишет: «Весь город пересечен улицами... В городе есть прекрасные общественные святилища и царские дворцы. Часть царских зданий составляет Музейон (Музей)... Перед большой гаванью находится башня на острове Фарос». (3 балла)

14+ 6. Назовите семь чудес света – семь самых известных памятников Древнего мира.

(14 баллов - по 2б. за правильный ответ)

Александрия Египетская
храм Амона в Фивах

7. Решите задачи:

1. Во время каникул Коля побывал в Египте. На уроке истории он рассказывал об увиденном сооружении, но забыл его название. Прочитайте текст и помогите Коле. О каком памятнике культуры идёт речь?

2+ Это величественное сооружение построили в Египте около 2570 г. до н.э. недалеко от Мемфиса, в Гизе. Высота достигает 146,5 м. На строительство ушло около 2 300 000 каменных блоков. (2 балла) Пирамида

2+ 2. Рим был основан в 753 г. до н.э. Сколько лет прошло от основания Рима до 1147 г., т.е. до первого упоминания Москвы в летописях? (2 балла) 1900 лет.

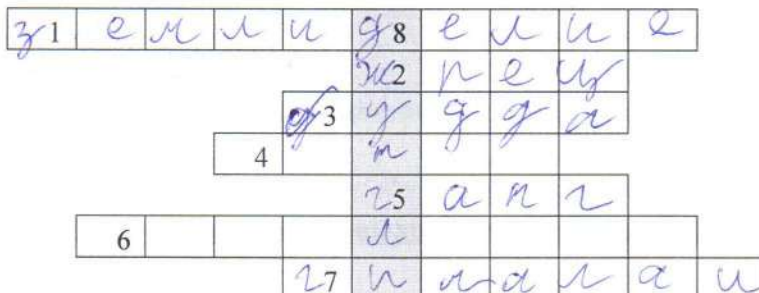
8. Решите кроссворд.

Разгадайте слова, расположенные по горизонтали, и по вертикали у вас получится ответ на вопрос № 8 (по вертикали) – густые, труднопроходимые леса в Индии.

По горизонтали:

- 5
1. Основное занятие жителей Индии.
 2. Служитель бога.
 3. Второе имя царевича Гаутамы, означающее «Просветленный мудрец».
 4. Один из индийских богов с головой слона.
 5. Река в Индии.
 6. Человек, отказавшийся от общения с другими людьми, живущий уединенно.
 7. Самые высокие горы в мире, ограничивающие страну с севера.

По вертикали. 8. Густые, труднопроходимые леса в Индии.



(За каждый правильный ответ - 1 балл. Максимальное количество - 8 баллов)

6. Статуя Зевса Олимпийского, Селипрамиды Висачи Сады, Фаросский маяк, Колос Родосский, Египетские пирамиды, Тадж-Махал, Карнакский мавзолей.


ПРОТОКОЛ
ШКОЛЬНОГО ЭТАПА ОЛИМПИАДЫ УЧАЩИХСЯ

по Истории

В МКОУ «СШ № 10» п. Светлогорск ПРОВОДИВШЕЙСЯ «27» сентября 2018 г.

№ п/п	Фамилия Имя Отчество	шифр	Ф.И.О. учителя (полностью)	Результат (Балл\ максим.балл)	место
1.	<u>Ващев Роман</u>	<u>В-1</u>	<u>Розницкий Владимир Станиславович</u>	<u>100/100</u>	<u>1</u>
2.					
3.					
4.					
5.					
6.					
7.					
8.					
9.					
10.					
11.					
12.					
13.					
14.					
15.					
16.					
17.					
18.					
19.					
20.					
21.					
22.					
23.					

Председатель предметно – методической комиссии: Туркенин Э.З. 

Члены предметно – методической комиссии: Васильев В.С. 

Секретарь: Ивахно А.В.

Бауцев

Всероссийская олимпиада школьников
по истории (школьный этап) 2018/2019 учебный год
7 класс

Время выполнения 60 минут.

В заданиях 1–5 дайте один верный ответ. Ответ внесите в таблицу.

1. Прочитайте отрывок из труда римского историка Плиния Старшего. Определите, о каком городе идёт речь в тексте. «Цари, как бы состязаясь, делали из сиенита столпы, называя их обелисками. Первым из всех это ввёл Месфрес, который царствовал в Городе Солнца, получив такое повеление во сне».

- +
① Мемфис
2) Фаюм
3) Александрия
4) Гелиополь

2. Прочитайте отрывок из работы современного историка. Укажите название документа, пропущенное в тексте.

«15 июня Иоанн приехал в стан баронов на берегу Темзы близ Виндзора и на Роннимидском лугу подписал договор, известный в дальнейшем как _____ . На несколько столетий этот документ стал основанием прав английского народа и основным законом государственного устройства».

- +
1) Салическая правда
② Хартия вольностей
3) Кодекс Юстиниана
4) Хабеас корпус

3. Прочитайте отрывок из духовной грамоты московского князя и укажите его имя.

«А что есмь дал сыну своему Семёну стадце, а другое Ивану; а иными стады моими поделятся сынове мои и княгини моя».

- +
1) Юрий Данилович
② Иван Калита
3) Дмитрий Донской
4) Василий III

4. Прочтите отрывок из источника и укажите век, когда произошли описанные события.

«И пришли немцы к Чудскому озеру, и встретил их Александр и изготовился к бою, и пошли они друг против друга, и покрылось озеро Чудское множеством тех и других воинов. Отец Александра, Ярослав, прислал ему на помощь младшего брата Андрея с большою дружиною. Да и у князя Александра было много храбрых воинов. Так и мужи Александра исполнились духа ратного, ведь были сердца их, как сердца львов, и воскликнули: «О княже наш славный! Ныне пришло нам время положить головы свои за тебя». Была же тогда суббота, и, когда взошло солнце, сошлись противники. И была сеча жестокая, и стоял треск от ломающихся копий и звон от ударов мечей, и казалось, что двинулось замёрзшее озеро, и не было видно льда, ибо покрылось оно кровью».

- +
1) XII в.
② XIII в.
3) XIV в.
4) XV в.

5. Прочтите отрывок из сочинения историка и укажите историческое явление, о котором идёт речь. «Учреждена же она была потому, что царь заподозрил вельмож в неприязни к себе и хотел иметь при себе людей, вполне преданных ему. Напуганный отъездом Курбского и протестом, который тот подал от имени всех своих собратий, царь заподозрил всех бояр своих и схватился за средство, которое освобождало его от них, освобождало от необходимости постоянного, ежедневного общения с ними».

- +
① опричнина

- 2) бироновщина
- 3) хованщина
- 4) пугачёвщина

Ответ:

1	2	3	4	5
11	21	21	21	11

По 2 балла за каждый верный ответ на задания 1–5.
Всего за задания 10 баллов.

10

✓ В заданиях 6–8 выберите несколько верных ответов из предложенных.
Ответы внесите в таблицу.

6. Назовите реформы и мероприятия, относящиеся к времени правления Ивана Грозного

- 1) создание стрелецкого войска
- 2) отмена кормлений
- 3) разгром церковных ересей в Москве и Новгороде
- 4) присоединение Крымского ханства
- 5) присоединение Твери
- 6) созыв Земского собора

7. Определите позиции, характеризующие положение князя в Новгородской земле

- 1) осуществлял сбор дани в зависимых от Новгорода землях
- 2) являлся главой Совета трехсот золотых поясов
- 3) осуществлял с помощью дружины судебные-административные функции в Новгородской земле
- 4) отстранял своей волей должностных лиц Великого Новгорода
- 5) осуществлял общее руководство обороной Новгородских земель

8. Какие из представленных ниже городов были столицами русских княжеств в период политической раздробленности?

- 1) Можайск
- 2) Новгород-Северский
- 3) Изборск
- 4) Любеч
- 5) Муром
- 6) Искоростень

Ответ:

6	7	8
21, 51	11, 31, 51	11, 21, 51

3 балла за полностью верный ответ; 1 балл за ответ с одной ошибкой (не указан один из верных ответов или наряду с указанными всеми верными ответами приводится один неверный). Всего за задания 9 баллов.

9. Что с исторической точки зрения объединяет перечисленные в ряду элементы? Дайте максимально точный ответ.

9.1. 1097г., 1100 г., 1102 г., 1103 г.

9.2. Рядович, смерд, закуп, прощенник

Ответ:

9.1. Международные войны

9.2. Крестьяне свободные и зависимые в Древней Руси.

По 3 балла за каждый верный ответ.
Всего за задание 6 баллов.

6

10. Расположите события в хронологической последовательности:

- А) Невская битва ¹²⁴⁰
- Б) Крещение Руси ⁹⁸⁸
- В) Создание Кирилом и Мефодием славянской письменности ⁸⁶³
- Г) Поход Ермака в Сибирь ¹⁵⁸⁴
- Д) Раскол христианской церкви на римско-католическую и православную ¹⁰⁵⁴
- Е) Битва при Грюнвальде ¹⁴¹⁰

6

Ответ:

В	Б	Г	Д	Е	А
---	---	---	---	---	---

6 баллов за полностью верную последовательность. 3 балла за последовательность с одной ошибкой (т. е. верная последовательность восстанавливается путём перестановки любых двух символов). 0 баллов, если допущено более одной ошибки.

Всего за задание 6 баллов.

11. Расположите в хронологической последовательности появление следующих историко-литературных произведений.

- А) «Задонщина» ^{XIV}
- Б) «Слово о Законе и Благодати» ^{XI}
- В) «Сказание о князьях владимирских» ^{XVI}
- Г) «Повесть временных лет» ^{XII}

6

Ответ:

Б	Г	В	А
---	---	---	---

4 балла за полностью верную последовательность. 2 балла за последовательность с одной ошибкой (т. е. верная последовательность восстанавливается путём перестановки любых двух символов). 0 баллов, если допущено более одной ошибки.

Всего за задание 4 балла.

12. Восстановите отрывок, вставив пропущенные слова. Необходимые вставки впишите рядом с соответствующими номерами в помещённую ниже таблицу.

Первый князь Древнерусского государства (1) Олег постепенно присоединил к (2) Киеву большую часть восточнославянских земель. Под его властью оказался путь «из (3) Варяж в Греки». В (4) 907 году князь совершил поход на столицу Византии (5) Царьград. В нем участвовало 2 тысячи судов, на которых размещалось 80 тысяч воинов. Византийцы, узнав о приближении русской рати, замкнули гавань (6) Константинополь и укрылись за стенами города. поставить их на каёсо. Тогда русский князь повелел вытащить корабли на берег и (7) сжечь. Попутный ветер погнал парусники руссов к стенам византийской столицы. Испуганные греки запросили мира. Князь (1) Олег в знак победы привел (8) свои щиты к воротам города. Результатом похода стал договор (9) с Византией, который был заключен в (10) 911 году.

Ответ:





1	Олег	6	Константинополь
---	------	---	-----------------

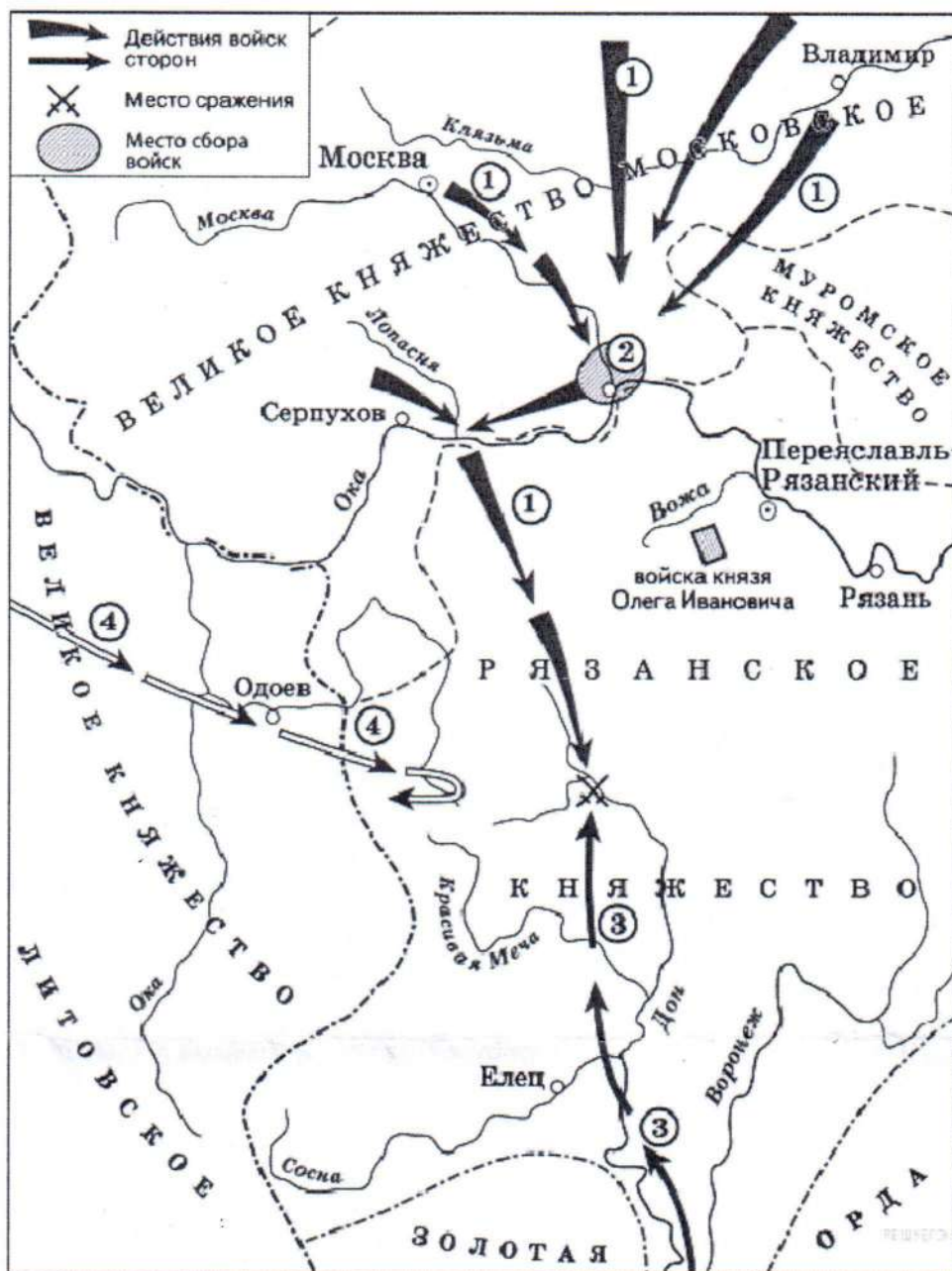
2	Киев	7	поставить икона калёса
3	"из варяг в греки"	8	прибыл свой щит
4	907	9	договор
5	Царьград	10	911

10

По 1 баллу за каждую верную вставку. Всего за задание 10 баллов.

13. Перед Вами четыре пронумерованных изображения и схема. Изображённые на иллюстрациях исторические личности связаны с событиями, отражёнными на схеме. Внимательно рассмотрите предложенные изображения и схему и выполните задания.

<p>1.</p> 	<p>2.</p> 
<p>3.</p> 	<p>4.</p> 



1. 1.1. Назовите битву, которая произошла в месте, обозначенном на схеме специальным значком. 1.2. Напишите год, когда произошла эта битва.
2. Определите деятелей, изображённых на иллюстрациях.
3. Назовите имя князя, при котором город, обозначенный на схеме цифрой 2, вошёл в состав Московского княжества.
4. Назовите, кто возглавлял войска, движение которых обозначено на схеме цифрой 4.
5. Назовите европейский город, пехотинцы которого принимали участие в битве в составе войска, движение которого обозначено на схеме цифрой 3.
6. Назовите любое внутривластическое мероприятие, проведённое в русском княжестве в годы правления деятеля, осуществлявшего общее командование войсками, обозначенными на схеме цифрой 1.

Ответ:

1. Куликовская битва 1380 год. (1 балл
за указание без года)

2. 1. Мамай 2. Сергей Родионетский 3. Дмитрий Донской
4. Тереквет, Талубей


(По 1 баллу за каждое верно названное имя) Всего 5 баллов.

3. Князь Александрович (2 балла)
 4. Литовский князь Ягайло (2 балла)
 5. Деня (2 балла)
 6. Постройка Белокаменного Кремля в Москве усреднение власти в Москве; установление нового принципа престолонаследия.

(2 балла)

Всего за задание 15 баллов.

14. Подпишите имена русских князей и расположите в хронологической последовательности их правления:



А) Я. Невский
 Г) Иван Грозный

Б) В. Конский
 Д) Святослав Изюрович

В) Иван III
 Е) Ярослав Мудрый



Ответ:

г)	е)	а)	б)	в)	д)
----	----	----	----	----	----

По 2 балла за каждый правильный ответ. 4 балла за правильную последовательность. Всего 16 баллов.

15. Ниже приводятся отрывки из исторических источников. Определите, о каких событиях идёт в них речь. Укажите год (годы), когда произошло каждое из событий, имя правителя русского государства. Ответ внесите в таблицу.

А) «... К славному городу Москве съехались все князья русские и говорили таково слово: «У Дона стоят татары поганые. Мамай-царь у реки Мечи, между Чуровом и Михайловом, хотят реку перейти и с жизнью своей расстаться нам во славу».

Б) «Пришла весть к великому князю, что царь Ахмат идёт в полном сборе, со своей ордой... Тогда-то и свершилось ...чудо...: когда наши отступали от берега, татары, думая, что русские уступают им берег, чтобы с ними сражаться, одержимые страхом, побежали. А наши, думая, что татары перешли реку и следуют за ними, пришли в Кременец. Князь же великий с сыном своим... отошел к Боровску... ..одни от других бежали, и никто никого не преследовал...

Царь же бежал в Орду...»

В) «И пришли немцы к Чудскому озеру, и встретил их (Князь), и изготовился к бою, и пошли они друг против друга, и покрылось озеро Чудское множеством тех и других воинов. Отец (...), Ярослав, прислал ему на помощь младшего брата Андрея с большою дружиною. Да и у князя Александра было много храбрых воинов... Так и мужи Александра исполнились духа ратного, ведь были сердца их, как сердца львов, и воскликнули: "О княже наш славный! Ныне пришло нам время положить головы свои за тебя"... Была же тогда суббота, и, когда взошло солнце, сошлись противники. И была сеча жестокая, и стоял треск от ломающихся копий и звон от ударов мечей, и казалось, что двинулось замёрзшее озеро, и не было видно льда, ибо покрылось оно кровью».

Г) Прочтите отрывок из летописи и укажите век, когда произошли описанные события. «Ольга же была в Киеве с сыном своим, ребёнком Святославом, и кормилец его был Асмуд, а воевода Свенельд — отец Мстиши. Сказали же древляне: "Вот убили князя мы русского; возьмём жену его (...) за князя нашего Мала и Святослава возьмём и сделаем ему, что захотим". И послали древляне лучших мужей своих, числом двадцать, в ладье к «...», и пристали в ладье под Боричевым подъёмом».

Ответ:

	Событие	Год	Правитель
А.	Куликовская битва	1380	В.И. Косой
Б	Сражение на Чигре	1480	Иван III
В	Ледовое побоище	1242	Я. Давыдов
Г	Восстание древлян и казнь Ольги	945	княгиня Ольга

По 2 балла за каждый правильный ответ.

Всего за задание 24 баллов.

Максимум за работу 100 баллов.